



रोल नं.

--	--	--	--	--	--	--

Roll No.

--	--	--	--	--	--	--

परीक्षार्थी कोड को उत्तर-पुस्तिका के मुख-पृष्ठ पर अवश्य लिखें।

Candidates must write the Code on the title page of the answer-book.

- कृपया जाँच कर लें कि इस प्रश्न-पत्र में मुद्रित पृष्ठ 8 हैं तथा 2 पृष्ठ मानचित्रों के हैं।
- प्रश्न-पत्र में दाहिने हाथ की ओर दिए गए कोड नम्बर को छात्र उत्तर-पुस्तिका के मुख-पृष्ठ पर लिखें।
- कृपया जाँच कर लें कि इस प्रश्न-पत्र में 26 प्रश्न हैं।
- कृपया प्रश्न का उत्तर लिखना शुरू करने से पहले, प्रश्न का क्रमांक अवश्य लिखें।
- इस प्रश्न-पत्र को पढ़ने के लिए 15 मिनट का समय दिया गया है। प्रश्न-पत्र का वितरण पूर्वाह्न में 10.15 बजे किया जाएगा। 10.15 बजे से 10.30 बजे तक छात्र केवल प्रश्न-पत्र को पढ़ेंगे और इस अवधि के दौरान वे उत्तर-पुस्तिका पर कोई उत्तर नहीं लिखेंगे।
- Please check that this question paper contains 8 printed pages and 2 pages of maps.
- Code number given on the right hand side of the question paper should be written on the title page of the answer-book by the candidate.
- Please check that this question paper contains 26 questions.
- **Please write down the Serial Number of the question before attempting it.**
- 15 minutes time has been allotted to read this question paper. The question paper will be distributed at 10.15 a.m. From 10.15 a.m. to 10.30 a.m., the students will read the question paper only and will not write any answer on the answer-book during this period.

भूगोल (सैद्धान्तिक)

GEOGRAPHY (Theory)

निर्धारित समय : 3 घण्टे

Time allowed : 3 hours

अधिकतम अंक : 70

Maximum Marks : 70



- (i) प्रश्नों की कुल संख्या **26** हैं ।
- (ii) **सभी** प्रश्न अनिवार्य हैं ।
- (iii) प्रत्येक प्रश्न के अंक उसके सामने अंकित हैं ।
- (iv) प्रश्न संख्या **1 – 10** तक अति लघु-उत्तर वाले प्रश्न हैं । प्रत्येक प्रश्न का **1** अंक है । इनमें से प्रत्येक प्रश्न का उत्तर **20** शब्दों से अधिक का नहीं होना चाहिए ।
- (v) प्रश्न संख्या **11 – 20** तक लघु-उत्तर वाले प्रश्न हैं । प्रत्येक प्रश्न के **3** अंक हैं । इनमें से एक प्रश्न मूल्य-आधारित है । इनमें से प्रत्येक प्रश्न का उत्तर **80** शब्दों से अधिक का नहीं होना चाहिए ।
- (vi) प्रश्न संख्या **21 – 25** तक दीर्घ-उत्तर वाले प्रश्न हैं । प्रत्येक प्रश्न के **5** अंक हैं । इनमें से प्रत्येक प्रश्न का उत्तर **150** शब्दों से अधिक का नहीं होना चाहिए ।
- (vii) प्रश्न संख्या **26** मानचित्रों पर दिए गए भौगोलिक लक्षणों को पहचानने और स्थिति दिखाने एवं नामांकन करने से संबंधित है ।
- (viii) **संसार** और **भारत** के दिए गए रेखा-मानचित्रों को अपनी उत्तर-पुस्तिका के बीच में अवश्य संलग्न कीजिए ।
- (ix) रेखा-मानचित्र बनाने के लिए **साँचों** या **स्टेंसिलों** के प्रयोग की अनुमति दी जाती है ।

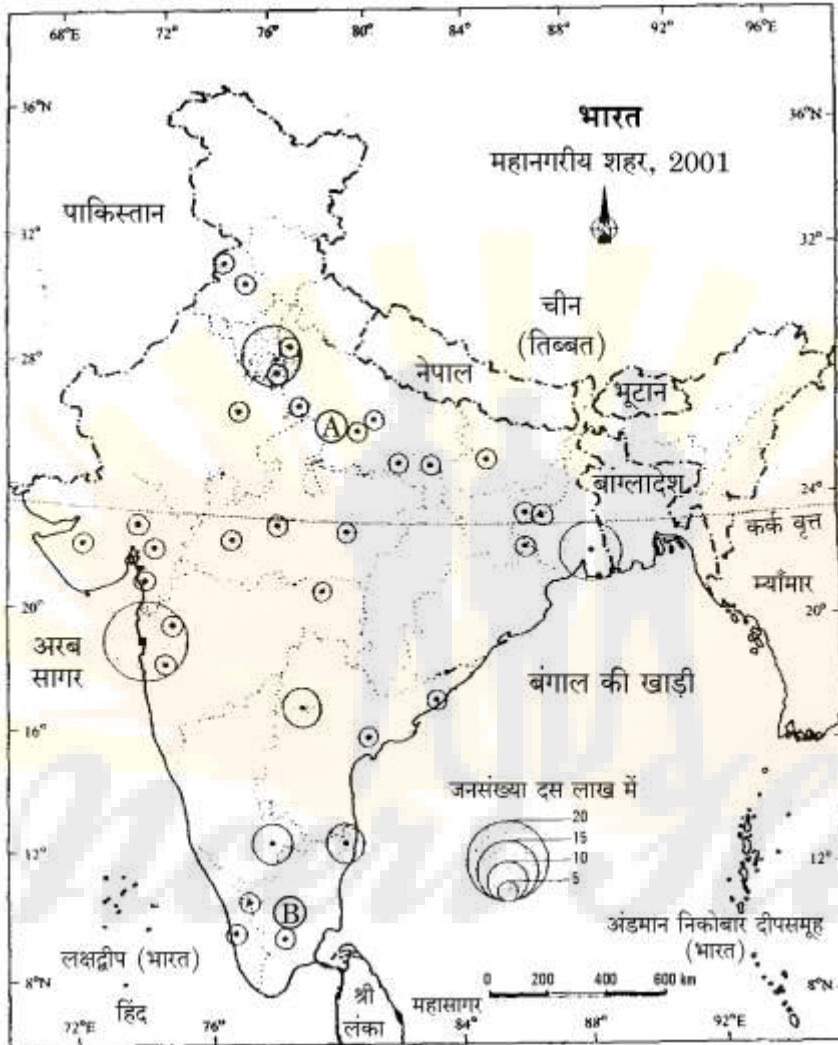
General Instructions :

- (i) There are **26** questions in all.
- (ii) **All** questions are compulsory.
- (iii) Marks for each question are indicated against it.
- (iv) Questions No. **1 – 10** are very short-answer questions carrying **1** mark each. Answer to each of these questions should not exceed **20** words.
- (v) Questions No. **11 – 20** are short-answer questions carrying **3** marks each. Out of which one question is a value based question. Answer to each of these questions should not exceed **80** words.
- (vi) Questions No. **21 – 25** are long-answer questions carrying **5** marks each. Answers to each of these questions should not exceed **150** words.
- (vii) Question No. **26** is related to identification or locating and labelling of geographical features on maps.
- (viii) Outline maps of the **World** and **India** provided to you must be attached within your answer-book.
- (ix) Use of **templates** or **stencils** for drawing outline maps is allowed.

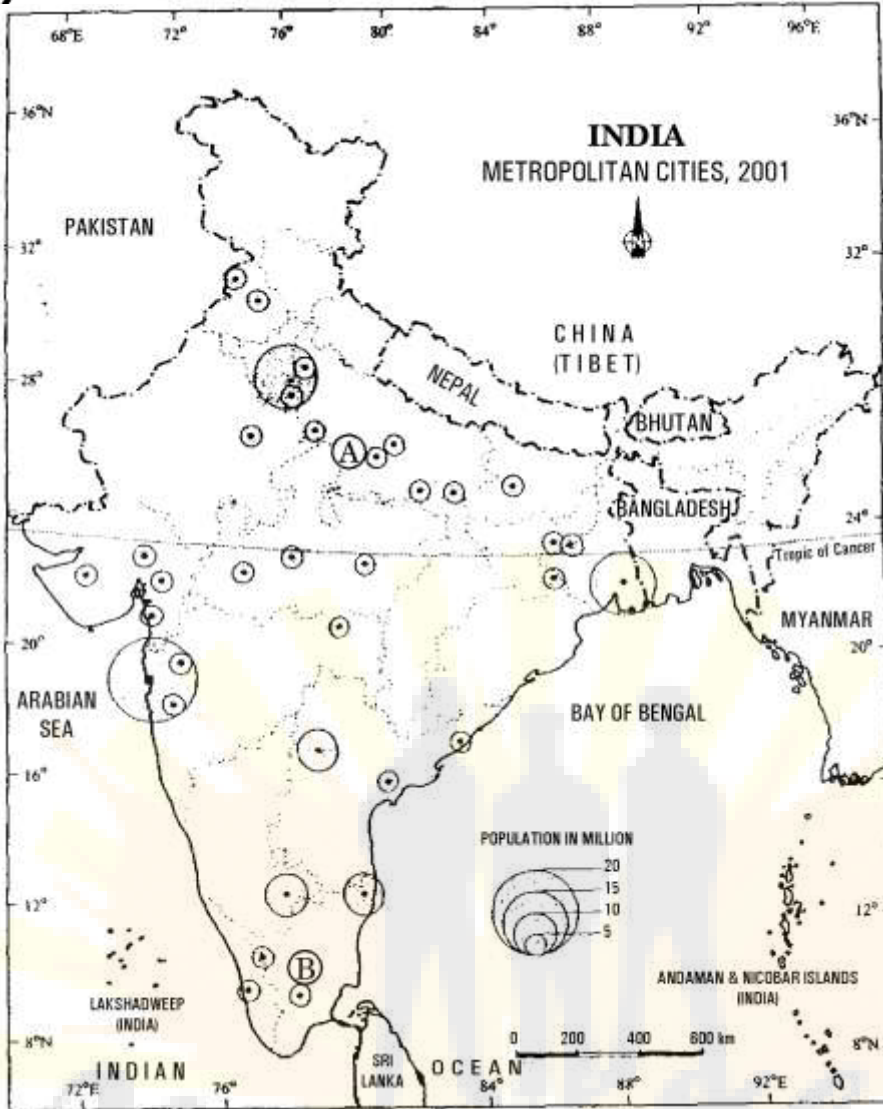
2. भारत में नगरीकरण का स्तर किस प्रकार मापा जाता है ? 1
 How is the level of urbanisation measured in India ?
3. शेर शाह सूरी ने सिन्धु घाटी से लेकर बंगाल की सोनार घाटी तक शाही राजमार्ग क्यों बनाया था ? 1
 Why did Sher Shah Suri build Shahi road from Indus Valley to Sonar Valley in Bengal ?
4. हमारे देश के लिए उपग्रह संचार को बहुत अधिक महत्वपूर्ण बनाने वाले दो कारणों का उल्लेख कीजिए । $\frac{1}{2} + \frac{1}{2} = 1$
 Mention the two reasons which have made the satellite communication very vital for our country.
5. भारत में किस कारण से जल की गुणवत्ता का काफी अधिक निम्नीकरण हुआ है ? 1
 What has led to a considerable degradation of quality of water in India ?
6. सबसे अधिक जनसंख्या वाला महाद्वीप कौन-सा है ? 1
 Which is the most populous continent ?
7. स्त्रियों को पुरुषों की तुलना में जैविक लाभ क्यों प्राप्त हैं ? 1
 Why do females have a biological advantage over males ?
8. विकसित अर्थव्यवस्था में, बहुसंख्यक श्रमिकों को किस प्रकार के क्रियाकलापों में रोजगार मिलता है ? 1
 In which type of activities, do majority of the workers get employment in a developed economy ?
9. चिकित्सा पर्यटन किसे कहते हैं ? 1
 What is medical tourism ?
10. राजस्थान के कुछ क्षेत्रों में जनसंख्या का उच्च घनत्व क्यों है ? 1
 Why do some areas of Rajasthan have a high density of population ?
11. 'मानव भूगोल' शब्द की परिभाषा दीजिए । मानव भूगोल के किन्हीं चार क्षेत्रों का उल्लेख कीजिए । 1+2=3
 Define the term 'Human Geography'. Mention any four fields of Human Geography.
12. "सार्थक जीवन केवल दीर्घ नहीं होता, इसका कोई उद्देश्य होना भी आवश्यक है ।" किन्हीं तीन उपयुक्त तर्कों द्वारा इस कथन की पुष्टि कीजिए । 3×1=3
 "A meaningful life is not just a long one, it must be a life with some purpose." Support this statement with any three suitable arguments.

What are footloose industries ? Explain any two characteristics of footloose industries.

14. नीचे दिए गए भारत के 2001 के महानगरीय शहरों को दिखाने वाले मानचित्र का सावधानीपूर्वक अध्ययन कीजिए और निम्नलिखित प्रश्नों के उत्तर दीजिए : 1+1+1=3



- (14.1) (A) और (B) द्वारा अंकित महानगरों को पहचानिए और उनके नाम लिखिए ।
 (14.2) उत्तरी भारत के किन्हीं दो राज्यों के नाम लिखिए, जिनमें कोई महानगर नहीं है ।
 (14.3) 'महानगर' शब्द की परिभाषा दीजिए ।



- (14.1) Identify and name the metropolitan cities marked as (A) and (B).
 (14.2) Name any two states of Northern India, which do not have any metropolitan city.
 (14.3) Define the term 'metropolitan city'.

नोट : निम्नलिखित प्रश्न केवल दृष्टिबाधित परीक्षार्थियों के लिए, प्रश्न संख्या 14 के स्थान पर है :

Note : The following question is for the **Visually Impaired Candidates** only, in lieu of Q. No. 14 :

‘महानगर’ शब्द की परिभाषा दीजिए । पंजाब के दो महानगरों के नाम बताइए । 1+2=3
 Define the term ‘metropolitan city’. Name the two metropolitan cities of Punjab.

Why is the area of cultivable land decreasing day-by-day in India ? Explain any three reasons.

16. भारत में उद्योग जल को किस प्रकार प्रदूषित करते हैं ? किन्हीं तीन उदाहरणों सहित व्याख्या कीजिए । 3×1=3
- How do industries pollute water in India ? Explain with any three examples.
17. धात्विक खनिज किन्हीं कहते हैं ? धात्विक खनिजों की कोई दो विशेषताएँ लिखिए । 1+2=3
- What are metallic minerals ? State any two characteristics of metallic minerals.
18. “दिक् और काल के संदर्भ में प्रवास, जनसंख्या के पुनर्वितरण का अभिन्न अंग और एक महत्त्वपूर्ण कारक रहा है ।” भारत से कोई तीन उपयुक्त उदाहरण देकर इस कथन का समर्थन कीजिए । 3×1=3
- “Migration has been an integral part and a very important factor in redistributing population over time and space.” Justify the statement by giving any three suitable examples from India.
19. “पर्वतीय क्षेत्र विकास कार्यक्रम” की किन्हीं तीन विशेषताओं का वर्णन कीजिए । 3×1=3
- Describe any three characteristics of “Hill Area Development Programme”.
20. अपने जल संसाधनों के संरक्षण और प्रबंधन के लिए ऐसे किन मानव-मूल्यों की आवश्यकता है, जिससे हमारी वर्तमान और भावी पीढ़ियों के लिए उपयोग के योग्य जल पर्याप्त मात्रा में मिलता रहे ? अपने शब्दों में स्पष्ट कीजिए । 3
- What human values are required for the conservation and management of our water resources, so that our present and future generations may get usable water in sufficient quantity ? Explain in your own words.
21. ‘वाणिज्यिक पशुधन पालन’ का क्या अर्थ है ? संसार में प्रचलित वाणिज्यिक पशुधन पालन की किन्हीं चार विशेषताओं की व्याख्या कीजिए । 1+4=5
- What is meant by ‘commercial livestock rearing’ ? Explain any four features of commercial livestock rearing practised in the world.
22. पार-महाद्वीपीय रेलमार्ग किसे कहते हैं ? पार-साइबेरियन रेलमार्ग के किन्हीं चार लक्षणों का वर्णन कीजिए । 1+4=5
- What are Trans-Continental Railways ? Describe any four features of Trans-Siberian Railway.

$$2\frac{1}{2} + 2\frac{1}{2} = 5$$

What are the five main bases of international trade ? State any one characteristic of each basis.

24. “ग्रामीण बस्तियाँ अत्यधिक निकटता और प्रत्यक्ष रूप से भूमि से जुड़ी होती हैं।” किन्हीं पाँच उपयुक्त तर्कों द्वारा इस कथन की पुष्टि कीजिए। 5×1=5

“Rural settlements are most closely and directly related to land.” Support this statement with any five suitable arguments.

25. “भारत के निर्यात संघटन का प्रारूप विगत वर्षों में बदलता रहा है।” किन्हीं पाँच उपयुक्त उदाहरणों सहित इस कथन की पुष्टि कीजिए। 5×1=5

“The pattern of the composition of India’s exports has been changing over the years.” Support this statement with any five suitable examples.

26. (26.1) संसार के दिए गए राजनीतिक रेखा-मानचित्र में निम्नलिखित चार लक्षण A, B, C एवं D दिखाए गए हैं : 4× $\frac{1}{2}$ =2

- A. अफ्रीका में सबसे अधिक जनसंख्या वाला देश
- B. मानव विकास सूचकांक 2003 में अधिकतम मूल्य सूचकांक वाला देश
- C. आस्ट्रेलियाई पार-महाद्वीपीय रेलमार्ग का अन्तिम स्टेशन
- D. एक प्रमुख समुद्री-पत्तन

इन लक्षणों की पहचान कीजिए और प्रत्येक लक्षण के सामने खींची गई रेखा पर उसका सही नाम लिखिए।

- (26.2) भारत के दिए गए राजनीतिक रेखा-मानचित्र में निम्नलिखित की स्थिति उपयुक्त चिह्नों द्वारा दिखाइए और उनके नाम लिखिए : 3×1=3

- (i) 2001 में सबसे कम जनसंख्या वाला राज्य
- (ii) तट पर स्थित महाराष्ट्र का महानगर
- (iii) छत्तीसगढ़ में स्थित इस्पात संयंत्र

Given political outline map of the **World**, the following four features A, B, C and D have been shown :

- A. The country having the largest population in Africa
- B. The country having the highest rank in Human Development Index in 2003
- C. The terminal station of the Australian Trans-Continental Railway.
- D. A major seaport

Identify these features and write their correct names on the lines marked near each feature.

(26.2) In the given political outline map of **India**, locate and label the following with appropriate symbols :

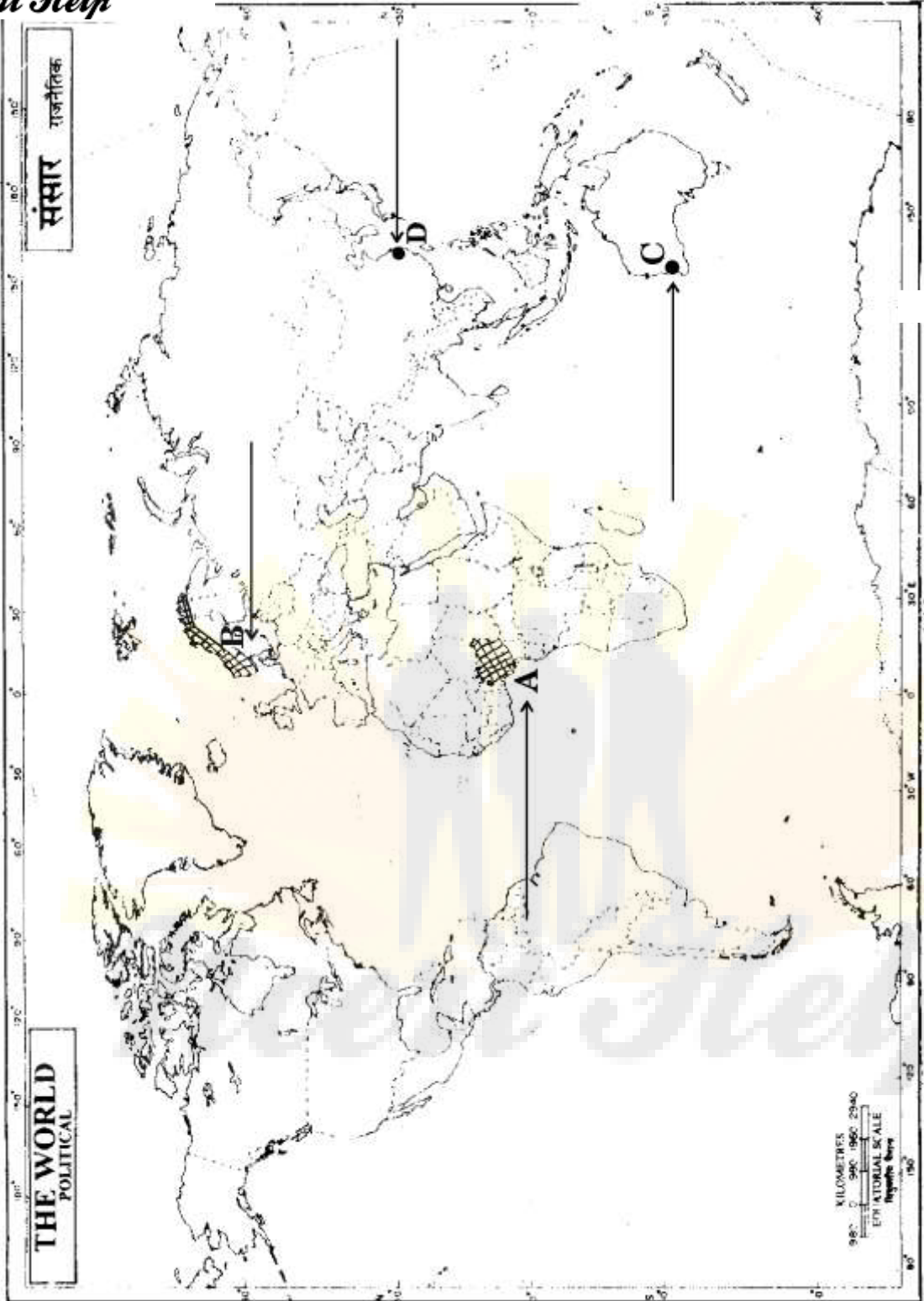
- (i) The State having the lowest population in 2001
- (ii) A metropolitan city of Maharashtra located on the coast
- (iii) The Steel plant located in Chhattisgarh

नोट : निम्नलिखित प्रश्न केवल दृष्टिबाधित परीक्षार्थियों के लिए, प्रश्न संख्या 26 के स्थान पर हैं :

Note : The following questions are for the **Visually Impaired Candidates** only, in lieu of Q. No. 26 :

- (26.1) अफ्रीका में सबसे अधिक जनसंख्या वाले देश का नाम बताइए ।
- (26.2) मानव विकास सूचकांक 2003 में अधिकतम मूल्य सूचकांक वाले देश का नाम बताइए ।
- (26.3) आस्ट्रेलियाई पार-महाद्वीपीय रेलमार्ग के किसी एक अन्तिम स्टेशन का नाम बताइए ।
- (26.4) 2001 में भारत के सबसे कम जनसंख्या वाले राज्य का नाम बताइए ।
- (26.5) छत्तीसगढ़ में स्थित लोहा और इस्पात संयंत्र का नाम बताइए । 5×1=5

- (26.1) Name the country having the largest population in Africa.
- (26.2) Name the country having the highest rank in Human Development Index in 2003
- (26.3) Name any one terminal station of the Australian Trans-Continental Railway.
- (26.4) Name the State of India having the lowest population in 2001.
- (26.5) Name the Iron and Steel plant located in Chhattisgarh.





Visit www.ncerthelp.com For All NCERT Solutions,
CSBE Sample papers, Question, papers, Notes For Class 6 to 12



Please Visit www.ncerhelp.com For All Videos Lectures of all Subjects

भारत का रेखा-मानचित्र (राजनीतिक)
Outline Map of India (Political)

